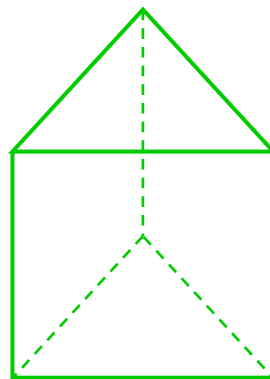
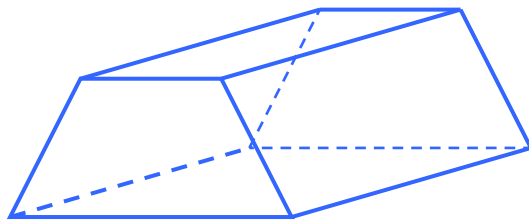
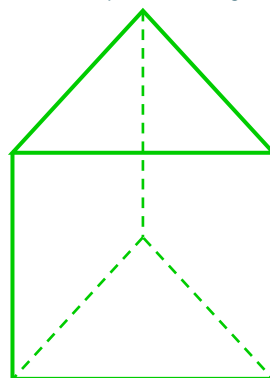
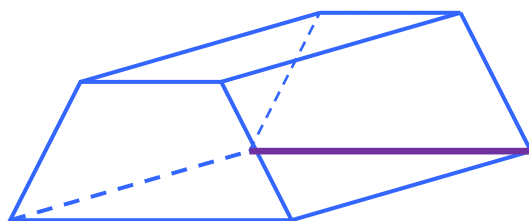


## Część I - Odcinki

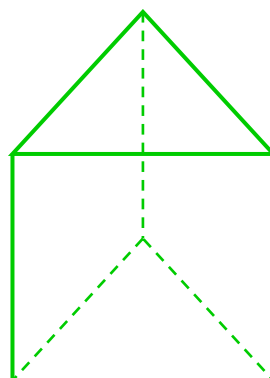
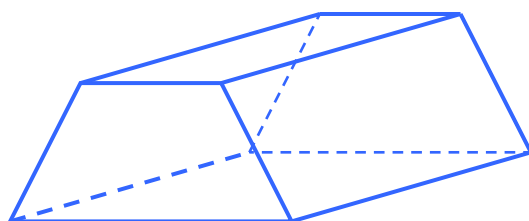
1. Zaznacz dwie dowolne **krawędzie równoległe**.



2. Narysuj krawędź **równoległą** do wyróżnionej krawędzi.



3. Zaznacz dwie **krawędzie prostopadłe**.



4. Zaznacz wszystkie **krawędzie prostopadłe** do wyróżnionej krawędzi.

